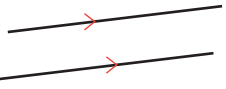
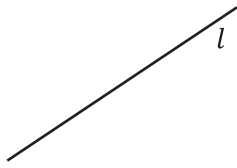
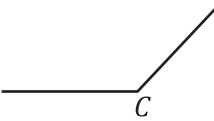
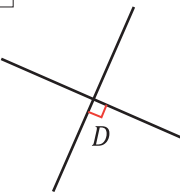
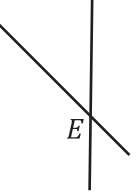


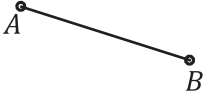

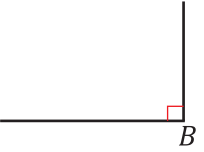
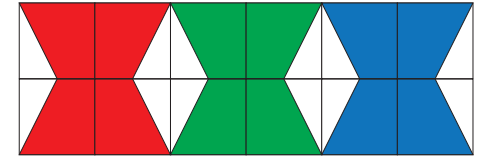


1 	2 	3 	4 	5 	6 
7 	8 een punt geef je aan met een	9 	10 	11 een lijn geef je aan met een	12 

Vind het juiste begrip bij het plaatje



<i>kleine letter</i>	<i>snijpunt</i>	<i>gestrekte hoek</i>	<i>halve lijn</i>	<i>hoofdletter</i>	<i>rechte hoek</i>
<i>lijnstuk</i>	<i>stompe hoek</i>	<i>evenwijdig</i>	<i>loodrecht</i>	<i>lijn</i>	<i>punt</i>